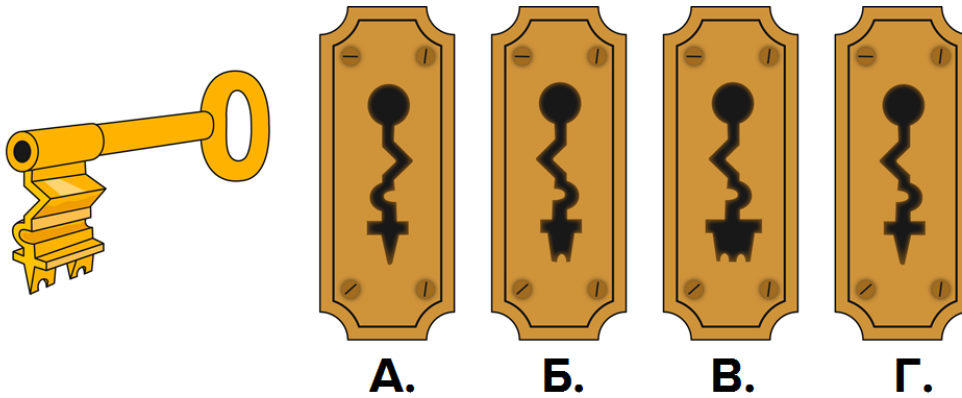
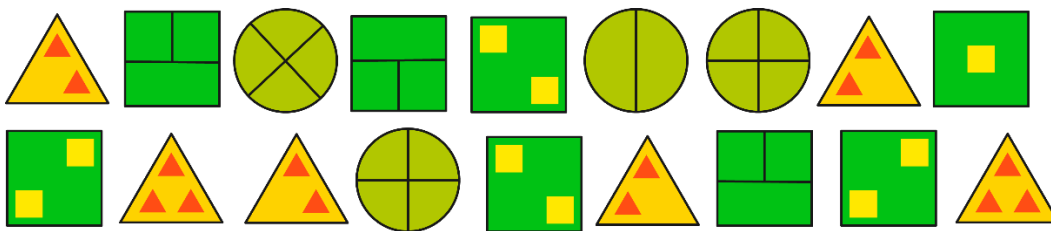


1. Ключ был вынут из замочной скважины. Определите из какой:




2. Сколько одинаковых пар в данном наборе фигур?

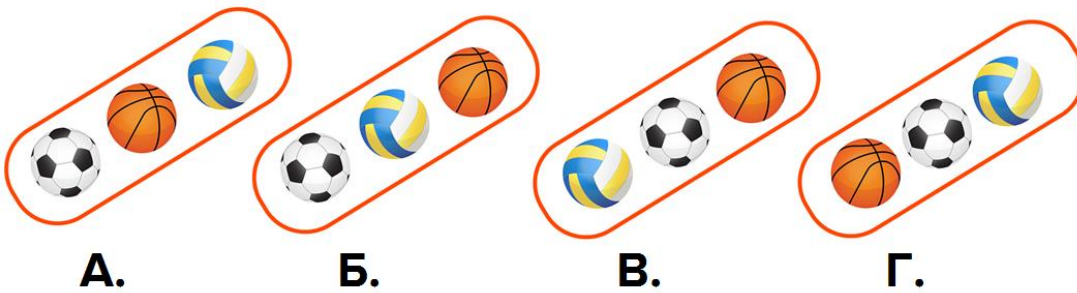


- А. 6
- Б. 7
- В. 4
- Г. 5


3. Что нужно дорисовать, чтобы повторить рисунок?



4. Найдите закономерность в расположении предметов. Как предметы должны располагаться в пустом ряду?



5. Про что можно сказать, что их семь?



- А. Столовые приборы
- Б. Ложки
- В. Вилки
- Г. Кухонные приборы

6. Какие фигуры разделены на равные части?

