


5 класс

1. Смена дня и ночи - это результат движения Земли


- А. По орбите
- Б. Вокруг своей оси
- В. По экватору
- Г. Вокруг Солнца

2. Учение о биосфере было создано российским академиком




В.И. Вернадский

А.




Н.Н. Миклухо-Маклай

Б.



В.В. Докучаев

В.



Н.М. Пржевальский

Г.

3. Название прибора для измерения направления и скорости ветра

- А. Гигрометр
- Б. Флюгер
- В. Барометр
- Г. Термометр

4. Солнце находится в зените 23 сентября над

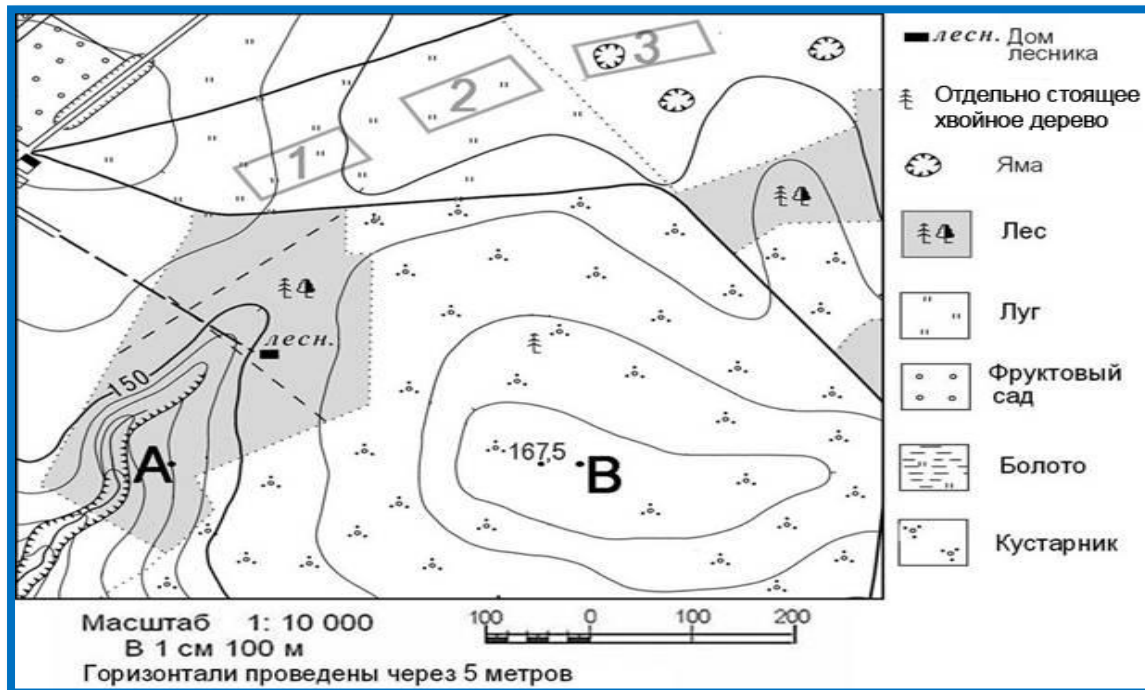
- А. Северным тропиком
- Б. Экватором
- В. Южным тропиком
- Г. Полюсами

6 класс

1. Линии, соединяющие точки на карте с одинаковой температурой

- А. Изобары
- Б. Изобаты
- В. Изотермы
- Г. Горизонталы

2. Определите расстояние от точки А до точки В по прямой линии, округлите. Выберите правильный ответ.



- А. 1000 м
- Б. 250 м
- В. 340 м
- Г. 520 м

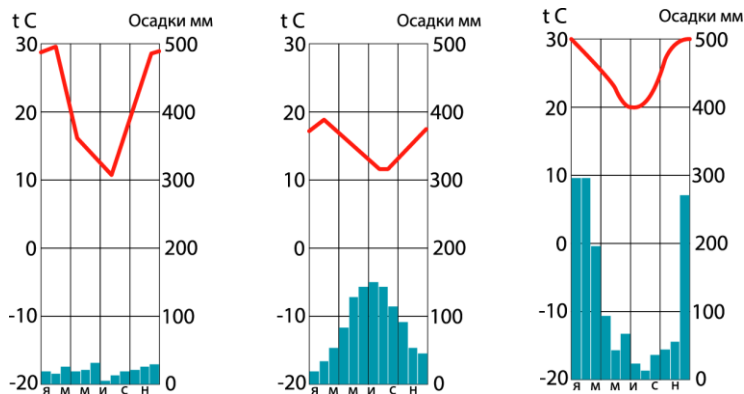
3. Западно-Сибирская равнина расположена между:

- А. Восточно-Европейской равниной и горами Кавказ
- Б. Уральскими горами и Восточно-Европейской
- В. Среднесибирским плоскогорьем и Восточно-Европейской равниной
- Г. Уральскими горами и Среднесибирским плоскогорьем

7 класс

1. Определите, по данным климатограмм, на каком материке эти типы климата являются основными:

- А. Африка
- Б. Южная Америка
- В. Австралия
- Г. Северная Америка



2. Какая страна расположена на материке Африка?

- А. Бразилия
- Б. Алжир
- В. Бангладеш

Г. Норвегия

3. Определите название гор, обозначенных на карте Европы цифрой 3.

- А. Альпы
- Б. Апеннины
- В. Карпаты
- Г. Пиренеи



8 класс

1. Выберите, из предложенных вариантов, реки, относящиеся к бассейну Тихого океана.

- А. Анадырь, Амур, Камчатка
- Б. Кубань, Днепр, Дон
- В. Индигирка, Обь, Печора
- Г. Урал, Волга, Кама

2. Для Карелии характерной формой рельефа являются бараньи лбы и курчавые скалы, причиной является?

- А. Деятельность солнечной радиации
- Б. Деятельность ледника
- В. Деятельность ветра
- Г. Деятельность воды

3. Одна из красивейших птиц планеты - Утка мандаринка. Масса 0,4 - 0,7 кг, длина крыла 210 – 245 мм. Её можно увидеть в России, это заповедник

- А. Буреинский
- Б. Алтайский
- В. Астраханский
- Г. Баргузинский

