

4 класс

1. Кто из предков человека научился изготавливать простейшие орудия труда?



Горилла

А.



Лемур

Б.



Человек умелый

В.



Кроманьонец

Г.

2. Солнце, как небесное тело, является:

- А. Кометой
- Б. звездой
- В. Естественным спутником
- Г. Планетой


3. Верны ли следующие утверждения?

А) Весь солнечный свет, который излучает Солнце, попадает на Землю.

Б) Современные астрономы называют Солнце звездой - желтым карликом.

- А. Верно только А
- Б. Верно только Б
- В. Верны оба суждения
- Г. Неверны оба суждения

4. Кто является создателем эволюционной теории, ставшей основой объяснения происхождения новых видов.




Чарльз Дарвин

А.



Жан-Батист Ламарк

Б.



Иван Петрович Павлов

В.



Уильям Гарвей

Г.

5. При смешивании каких двух компонентов выделяется углекислый газ (CO₂)?



А.



Б.



В.



Г.

5 класс


1. На каком рисунке нарисованы только овощи?



А.



Б.



В.



Г.

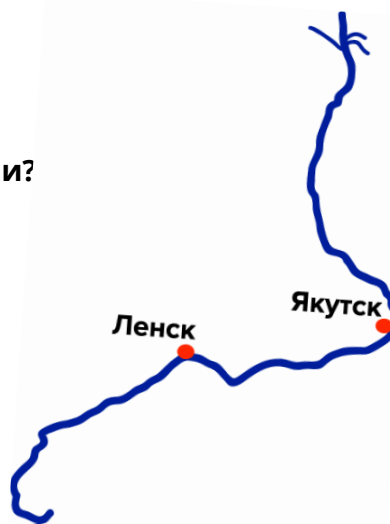
2. Какое полезное ископаемое используют при производстве кирпичей?

- А. Торф
- Б. Мрамор
- В. Глина
- Г. Известняк



3. Какая река самая длинная в России?

- А. Обь
- Б. Иртыш
- В. Катунь
- Г. Лена



4. Какого газа меньше всего содержится в воздухе?

- А. Водорода
- Б. Азота
- В. Кислорода
- Г. Углекислого газа


5. Определите, какие осенние листья из гербария представлены на рисунке.

- А. Вяз, рябина, дуб, береза, клен
- Б. Тополь, береза, сирень, клен, дуб
- В. Осина, вяз, дуб, смородина, береза
- Г. Клен, береза, сирень, рябина, дуб



6. На схеме показана траектория удара мяча по воротам, как она называется?

- А. в 10
- Б. в 9
- В. в 5
- Г. в 6



7. Как выстукивается международный сигнал бедствия SOS?

- А. (... --- ...)
- Б. (--- ... ---)
- В. (...)
- Г. (--- ... --- ...)



8. Как в машиностроении называется вал, который передает вращение, даже находясь в изогнутом состоянии?

- А. Распределительный вал
- Б. Карданный вал
- В. Прямой вал
- Г. Коленчатый вал



9. Какой город является столицей европейского государства?

- А. Пекин
- Б. Нью-Йорк
- В. Лондон
- Г. Сидней